

Муниципальное бюджетное общеобразовательное учреждение
Субботинская средняя общеобразовательная школа имени Героя Советского
Союза С.У.Кривенко.

УТВЕРЖДЕНА
приказом МБОУ Субботинская СОШ
им. Героя Советского Союза С.У.Кривенко
от «31» августа 2021 года
№ / о/д

Рабочая программа

по физике 9 класса

(базовый уровень)

Срок действия программы: 1 год

Разработчик программы
Свиридкина Оксана Анатольевна
Учитель физики первая кк

Рассмотрено на заседании ШМО

Протокол от «__» _____ 2021г. № _____

Руководитель ШМО Фетисова А.И.

с. Субботино – 2021

І.ПОЯСНИТЕЛЬНАЯ ЗАПИСКА

Рабочая программа по физике на 2021/22 учебный год для обучающихся 9 класса МБОУ Субботинская СОШ им.Героя Советского Союза С.У.Кривенко разработана в соответствии с требованиями:

- Федерального закона от 29.12.2012 № 273-ФЗ «Об образовании в Российской Федерации»;
- приказа Минпросвещения от 28.08.2020 № 442 «Об утверждении Порядка организации и осуществления образовательной деятельности по основным общеобразовательным программам – образовательным программам начального общего, основного общего и среднего общего образования» (распространяется на правоотношения до 1 сентября 2021 года);
- приказа Минпросвещения от 22.03.2021 № 115 «Об утверждении Порядка организации и осуществления образовательной деятельности по основным общеобразовательным программам – образовательным программам начального общего, основного общего и среднего общего образования» (распространяется на правоотношения с 1 сентября 2021 года);
- приказа Минобрнауки от 17.12.2010 № 1897 «Об утверждении ФГОС основного общего образования»;
- СП 2.4.3648-20 «Санитарно-эпидемиологические требования к организациям воспитания и обучения, отдыха и оздоровления детей и молодежи», утвержденных постановлением главного государственного санитарного врача России от 28.09.2020 № 28 (действуют с 1 января 2021 года);
- СанПиН 1.2.3685-21 «Гигиенические нормативы и требования к обеспечению безопасности и (или) безвредности для человека факторов среды обитания», утвержденных постановлением главного санитарного врача от 28.01.2021 № 2 (действуют с 1 марта 2021 года);
- **концепции преподавания физике в Российской Федерации**, утвержденной распоряжением Правительства от 09.04.2016 № 637
- учебного плана основного общего образования МБОУ Субботинская СОШ им.Героя Советского Союза С.У.Кривенко
- рабочей программы воспитания

Программа разработана во исполнение пункта 1 Цели № 1 распоряжения Минпросвещения России от 15.02.2019 № Р-8 «Об утверждении ведомственной целевой программы "Развитие современных механизмов и технологий дошкольного и общего образования"».

Место предмета в учебном плане

Рабочая учебная программа предназначена для изучения курса физики на базовом уровне, рассчитана на 102 учебных часов, из расчета 3 часа в неделю.

В рабочую учебную программу включены элементы учебной информации по темам, перечень демонстраций и фронтальных лабораторных работ, необходимых для формирования умений, указанных в требованиях к уровню подготовки выпускников основной школы.

Оценочные средства (оценочные материалы) и методические материалы рабочей программы по физике

Класс/Программа	Перечень используемых оценочных средств (оценочных материалов)/КИМы*	Перечень используемых методических материалов
<p>Примерная программа основного общего образования и авторской программы по физике (авторы: Н.В. Филонович, Е.М. Гутник физика: рабочая программа: 7-9 классы общеобразовательных организаций А.В Перышкин, Е.М. Гутник. М.: Дрофа 2017</p>	<p>1.Сборник задач по физике 7-9 кл. А.В. Перышкин; сост. Н.В.Филонович.-М.: АСТ: Астрель; Владимир ВКТ, 2011</p> <p>2.Контрольные работы в новом формате. Физика 9. И.В.Годова. Москва Интеллект-центр. 2018г</p>	<p>Учебник «Физика. 9 класс». Перышкин А.В. Учебник для общеобразовательных учреждений. 4-е издание - М.: Дрофа, 2019.</p>

II. Планируемые результаты:

Предметные результаты

№	Тема	Обучаемый научится	Обучаемый получит возможность научиться
1	<p>Механические явления</p> <p>- Законы взаимодействия и движения тел</p> <p>- Механические колебания и волны. Звук</p>	<p>- распознавать механические явления и объяснять на основе имеющихся знаний основные свойства или условия протекания этих явлений: равномерное и неравномерное движение, равномерное и равноускоренное прямолинейное движение, относительность механического движения, свободное падение тел, равномерное движение по окружности, взаимодействие тел, реактивное движение, колебательное движение, резонанс, волновое движение (звук);</p> <p>- описывать изученные свойства тел и механические явления, используя физические величины: путь, перемещение, скорость, ускорение, период обращения, масса тела, сила (сила тяжести, сила упругости, сила трения), импульс тела, кинетическая энергия, потенциальная энергия, механическая работа, сила трения, амплитуда, период и частота колебаний, длина волны и скорость ее</p>	<p>- использовать знания о механических явлениях в повседневной жизни для обеспечения безопасности при обращении с приборами и техническими устройствами, для сохранения здоровья и соблюдения норм экологического поведения в окружающей среде;</p> <p>приводить примеры практического использования физических знаний о механических явлениях и</p>

		<p>распространения; при описании правильно трактовать физический смысл используемых величин, их обозначения и единицы измерения, находить формулы, связывающие данную физическую величину с другими величинами, вычислять значение физической величины;</p> <ul style="list-style-type: none"> - анализировать свойства тел, механические явления и процессы, используя физические законы: закон сохранения энергии, закон всемирного тяготения, принцип суперпозиции сил, I, II и III законы Ньютона, закон сохранения импульса, закон; при этом различать словесную формулировку закона и его математическое выражение; - различать основные признаки изученных физических моделей: материальная точка, инерциальная система отсчета; - решать задачи, используя физические законы (закон сохранения энергии, закон всемирного тяготения, принцип суперпозиции сил, I, II и III законы Ньютона, закон сохранения импульса, закон Гука, закон Паскаля, закон Архимеда) и формулы, связывающие физические величины (путь, скорость, ускорение, масса тела, сила, импульс тела, кинетическая энергия, потенциальная энергия, механическая работа, сила трения скольжения, коэффициент трения, амплитуда, период и частота колебаний, длина волны и скорость ее распространения): на основе анализа условия задачи записывать краткое условие, выделять физические величины, законы и формулы, необходимые для ее решения, проводить расчеты и оценивать реальность полученного значения физической величины. 	<p>физических законах; примеры использования возобновляемых источников энергии;</p> <p>экологических последствий исследования космического пространства;</p> <ul style="list-style-type: none"> - различать границы применимости физических законов, понимать всеобщий характер фундаментальных законов (закон сохранения механической энергии, закон сохранения импульса, закон всемирного тяготения) и ограниченность использования частных законов; - находить адекватную предложенной задаче физическую модель, разрешать проблему как на основе имеющихся знаний по механике с использованием математического аппарата, так и при помощи методов оценки.
2	<p>Электромагнитные явления -Электромагнитное поле</p>	<ul style="list-style-type: none"> - распознавать электромагнитные явления и объяснять на основе имеющихся знаний основные свойства или условия протекания этих явлений: взаимодействие магнитов, электромагнитная индукция, действие магнитного поля на проводник с током и на движущуюся заряженную частицу, действие электрического поля на заряженную частицу, электромагнитные волны, прямолинейное распространение света, отражение и преломление света, дисперсия света. - описывать изученные свойства тел и электромагнитные явления, используя физические величины: скорость электромагнитных волн, длина волны и частота света; при описании верно трактовать физический смысл используемых величин, их обозначения и единицы 	<ul style="list-style-type: none"> - использовать знания об электромагнитных явлениях в повседневной жизни для обеспечения безопасности при обращении с приборами и техническими устройствами, для сохранения здоровья и соблюдения норм экологического поведения в окружающей среде; приводить примеры влияния электромагнитных излучений на

		<p>измерения; находить формулы, связывающие данную физическую величину с другими величинами.</p> <ul style="list-style-type: none"> - анализировать свойства тел, электромагнитные явления и процессы, используя физические законы: закон отражения света, закон преломления света; при этом различать словесную формулировку закона и его математическое выражение. - приводить примеры практического использования физических знаний о электромагнитных явлениях - решать задачи, используя физические законы (закон отражения света, закон преломления света) и формулы, связывающие физические величины (скорость электромагнитных волн, длина волны и частота света: на основе анализа условия задачи записывать краткое условие, выделять физические величины, законы и формулы, необходимые для ее решения, проводить расчеты и оценивать реальность полученного значения физической величины. 	<p>живые организмы;</p> <ul style="list-style-type: none"> - различать границы применимости физических законов, понимать всеобщий характер фундаментальных законов и ограниченность использования частных законов; - использовать приемы построения физических моделей, поиска и формулировки доказательств выдвинутых гипотез и теоретических выводов на основе эмпирически установленных фактов; - находить адекватную предложенной задаче физическую модель, разрешать проблему как на основе имеющихся знаний об электромагнитных явлениях с использованием математического аппарата, так и при помощи методов оценки.
3	<p>Квантовые явления</p> <ul style="list-style-type: none"> - Строение атома и атомного ядра 	<ul style="list-style-type: none"> - распознавать квантовые явления и объяснять на основе имеющихся знаний основные свойства или условия протекания этих явлений: естественная и искусственная радиоактивность, α-, β- и γ-излучения, возникновение линейчатого спектра излучения атома; - описывать изученные квантовые явления, используя физические величины: массовое число, зарядовое число, период полураспада, энергия фотонов; при описании правильно трактовать физический смысл используемых величин, их обозначения и единицы измерения; находить формулы, связывающие данную физическую величину с другими величинами, вычислять значение физической величины; - анализировать квантовые явления, используя физические законы и постулаты: закон сохранения энергии, закон сохранения электрического заряда, закон сохранения массового числа, 	<ul style="list-style-type: none"> - использовать полученные знания в повседневной жизни при обращении с приборами и техническими устройствами (счетчик ионизирующих частиц, дозиметр), для сохранения здоровья и соблюдения норм экологического поведения в окружающей среде; - соотносить энергию связи атомных ядер с дефектом массы; - приводить примеры влияния радиоактивных излучений на

		<p>закономерности излучения и поглощения света атомом, при этом различать словесную формулировку закона и его математическое выражение;</p> <p>- различать основные признаки планетарной модели атома, нуклонной модели атомного ядра;</p> <p>- приводить примеры проявления в природе и практического использования радиоактивности, ядерных и термоядерных реакций, спектрального анализа.</p>	<p>живые организмы; понимать принцип действия дозиметра и различать условия его использования;</p> <p>- понимать экологические проблемы, возникающие при использовании атомных электростанций, и пути решения этих проблем, перспективы использования управляемого термоядерного синтеза.</p>
4	<p>Элементы астрономии</p> <p>- Строение и эволюция Вселенной</p>	<p>- указывать названия планет Солнечной системы; различать основные признаки суточного вращения звездного неба, движения Луны, Солнца и планет относительно звезд;</p> <p>- понимать различия между гелиоцентрической и геоцентрической системами мира</p>	<p>- указывать общие свойства и отличия планет земной группы и планет-гигантов; малых тел Солнечной системы и больших планет; пользоваться картой звездного неба при наблюдениях звездного неба;</p> <p>- различать основные характеристики звезд (размер, цвет, температура) соотносить цвет звезды с ее температурой;</p> <p>- различать гипотезы о происхождении Солнечной системы.</p>

Личностные результаты:

1. формирование познавательных интересов, интеллектуальных и творческих способностей учащихся;
2. убежденность в возможности познания природы, в необходимости разумного использования достижений науки и технологий для дальнейшего развития человеческого общества, уважение к творцам науки и техники, отношение к физике как элементу общечеловеческой культуры;
3. самостоятельность в приобретении новых знаний и практических умений;
4. готовность к выбору жизненного пути в соответствии с собственными интересами и возможностями;

5. мотивация образовательной деятельности школьников на основе личностно ориентированного подхода;
6. формирование ценностных отношений друг к другу, учителю, авторам открытий и изобретений, результатам обучения.

Метапредметные результаты:

1. овладение навыками самостоятельного приобретения новых знаний, организации учебной деятельности, постановки целей, планирования, самоконтроля и оценки результатов своей деятельности, умениями предвидеть возможные результаты своих действий;
2. понимание различий между исходными фактами и гипотезами для их объяснения, теоретическими моделями и реальными объектами, овладение универсальными учебными действиями на примерах гипотез для объяснения известных фактов и экспериментальной проверки выдвигаемых гипотез, разработки теоретических моделей процессов или явлений;
3. формирование умений воспринимать, перерабатывать и предъявлять информацию в словесной, образной, символической формах, анализировать и перерабатывать полученную информацию в соответствии с поставленными задачами, выделять основное содержание прочитанного текста, находить в нем ответы на поставленные вопросы и излагать его;
4. приобретение опыта самостоятельного поиска, анализа и отбора информации с использованием различных источников и новых информационных технологий для решения познавательных задач;
5. развитие монологической и диалогической речи, умения выражать свои мысли и способности выслушивать собеседника, понимать его точку зрения, признавать право другого человека на иное мнение;
6. освоение приемов действий в нестандартных ситуациях, овладение эвристическими методами решения проблем;
7. формирование умений работать в группе с выполнением различных социальных ролей, представлять и отстаивать свои взгляды и убеждения, вести дискуссию.

III.Содержание учебного предмета

Содержание обучения представлено в программе разделами «Механические явления» («Законы взаимодействия и движения тел», Механические колебания и волны. Звук»), «Электромагнитные явления» («Электромагнитное поле»), «Квантовые явления» («Строение атома и атомного ядра»), «Элементы астрономии» («Строение и эволюция Вселенной»)

МЕХАНИЧЕСКИЕ ЯВЛЕНИЯ

Законы взаимодействия и движения тел (34 ч)

Материальная точка. Система отсчета. Перемещение. Скорость прямолинейного равномерного движения. Прямолинейное равноускоренное движение: мгновенная скорость, ускорение, перемещение. Графики зависимости кинематических величин от времени при равномерном и равноускоренном движении. Относительность механического движения. Геоцентрическая и гелиоцентрическая системы мира.

Инерциальная система отсчета. Первый, второй и третий законы Ньютона. Свободное падение. Невесомость. Закон всемирного тяготения. Искусственные спутники Земли. Импульс. Закон сохранения импульса. Реактивное движение.

Лабораторные работы

Лабораторная работа №1 «Исследование равноускоренного движения без начальной скорости»

Лабораторная работа №2 «Измерение ускорения свободного падения»

Механические колебания и волны. Звук (16 ч)

Колебательное движение. Колебания груза на пружине. Свободные колебания. Колебательная система. Маятник. Амплитуда, период, частота колебаний. Гармонические колебания. Превращение энергии при колебательном движении. Затухающие колебания. Вынужденные колебания. Резонанс. Распространение колебаний в упругих средах. Поперечные и продольные волны. Длина волны. Связь длины волны со скоростью ее распространения и периодом (частотой). Звуковые волны. Скорость звука. Высота, тембр и громкость звука. Эхо. Звуковой резонанс. Интерференция звука.

Лабораторные работы

Лабораторная работа №3 «Исследование зависимости периода и частоты свободных колебаний маятника от длины его нити»

ЭЛЕКТРОМАГНИТНЫЕ ЯВЛЕНИЯ

Электромагнитное поле (26 ч)

Однородное и неоднородное магнитное поле. Направление тока и направление линий его магнитного поля. Правило буравчика. Обнаружение магнитного поля. Правило левой руки. Индукция магнитного поля. Магнитный поток. опыты Фарадея. Электромагнитная индукция. Направление индукционного тока. Правило Ленца. Явление самоиндукции. Переменный ток. Генератор переменного тока. Преобразования энергии в электрогенераторах. Трансформатор. Передача электрической энергии на расстояние. Электромагнитное поле. Электромагнитные волны. Скорость распространения электромагнитных волн. Влияние электромагнитных излучений на живые организмы. Колебательный контур. Получение электромагнитных колебаний. Принципы радиосвязи и телевидения. Интерференция света. Электромагнитная природа света. Преломление света. Показатель преломления. Дисперсия света. Цвета тел. Спектрограф и спектроскоп. Типы оптических спектров. Спектральный анализ. Поглощение и испускание света атомами. Происхождение линейчатых спектров.

Лабораторные работы

Лабораторная работа №4 «Изучение явления электромагнитной индукции»

Лабораторная работа №5 «Наблюдение сплошного и линейчатых спектров испускания»

КВАНТОВЫЕ ЯВЛЕНИЯ

Строение атома и атомного ядра (19 ч)

Радиоактивность как свидетельство сложного строения атомов. Альфа-, бета- и гамма-излучения. опыты Резерфорда. Ядерная модель атома. Радиоактивные превращения атомных ядер. Сохранение зарядового и массового чисел при ядерных реакциях. Методы наблюдения и

регистрации частиц в ядерной физике. Протонно-нейтронная модель ядра. Физический смысл зарядового и массового чисел. Изотопы. Правило смещения для альфа- и бета-распада. Энергия связи частиц в ядре. Деление ядер урана. Цепная реакция. Ядерная энергетика. Экологические проблемы работы атомных электростанций. Период полураспада. Закон радиоактивного распада. Влияние радиоактивных излучений на живые организмы. Термоядерная реакция.

Лабораторные работы

Лабораторная работа №6 «Измерение естественного радиационного фона дозиметром»

Лабораторная работа №7 «Изучение деления ядра атома урана по фотографии треков»

Лабораторная работа №8 «Оценка периода полураспада находящихся в воздухе продуктов распада газа радона»

Лабораторная работа №9 «Изучение треков заряженных частиц по готовым фотографиям»

ЭЛЕМЕНТЫ АСТРОНОМИИ

Строение и эволюция Вселенной (7 ч)

Состав, строение и происхождение Солнечной системы. Планеты и малые тела Солнечной системы. Строение, излучение и эволюция Солнца и звезд. Строение и эволюция Вселенной.

IV. Тематическое планирование с указанием количества часов, отводимых на освоение каждой темы

Тематическое планирование по физике для 9-го класса составлено с учетом рабочей программы воспитания. Воспитательный потенциал данного учебного предмета обеспечивает реализацию следующих целевых приоритетов воспитания обучающихся ООО:

1. Развитие ценностного отношения к труду как основному способу достижения жизненного благополучия человека, залогом его успешного профессионального самоопределения и ощущения уверенности в завтрашнем дне.
2. Развитие ценностного отношения к своему Отечеству, своей малой и большой Родине как месту, в котором человек вырос и познал первые радости и неудачи, которая завещана ему предками и которую нужно оберегать.
3. Развитие ценностного отношения к природе как источнику жизни на Земле, основе самого ее существования, нуждающейся в защите и постоянном внимании со стороны человека.
4. Развитие ценностного отношения к знаниям как интеллектуальному ресурсу, обеспечивающему будущее человека, как результату кропотливого, но увлекательного учебного труда.

№	Название темы	Количество отводимых часов	Количество контрольных работ	Количество лабораторных работ
1	Законы взаимодействия и движения тел	34	2	2
2	Механические колебания и волны. Звук	16	1	1
3	Эlectромагнитное поле	26	1	2
4	Строение атома и атомного ядра	19	1	4
5	Строение и эволюция Вселенной	7	1	-
ИТОГО		102	6	9

Итоговая контрольная работа по физике за курс 9 класса

Вариант № 1

Инструкция по выполнению работы

На выполнение контрольной работы по физике отводится 45 минут. Работа состоит из 3-х частей и включает 10 заданий.

Часть 1 содержит 5 заданий (1–5). К каждому заданию приводится 4 варианта ответа, из которых только 1 верный. При выполнении задания части 1 в тетради для контрольных работ сделайте запись: «Часть 1», проставьте номера заданий по порядку и запишите номер выбранного ответа в контрольной работе. Если вы выбрали не тот номер, то зачеркните этот номер крестиком, а рядом поставьте номер правильного ответа.

Часть 2 включает 3 задания с кратким ответом (6–8). При выполнении заданий части 2 ответ записывается в тетради для контрольных работ. При этом делается запись: «Часть 2», проставляются номера заданий по порядку и записывается последовательность цифр ответа. В случае записи неверного ответа зачеркните его и запишите рядом новый.

Часть 3 содержит 2 задания (9–10), на которые следует дать развернутый ответ. Ответы на задания части 3 записываются в тетради для контрольных работ, после записи: «Часть 3». При выполнении заданий части 3 значение искомой величины следует записать в тех единицах, которые указаны в условии задания. Если такого указания нет, то значение величины следует записать в Международной системе единиц (СИ).

При вычислениях разрешается использовать непрограммируемый калькулятор.

При выполнении заданий можно пользоваться черновиком. Записи в черновике не учитываются при оценивании работы.

Советуем выполнять задания в том порядке, в котором они даны. С целью экономии времени пропускайте задание, которое не удаётся выполнить сразу, и переходите к следующему. Если после выполнения всей работы у вас останется время, то можно вернуться к пропущенным заданиям.

За каждый правильный ответ в «Части 1» дается 1 балл, в «Части 2» 1–2 балла, в «Части 3» – от 1 до 3 баллов. Баллы, полученные вами за все выполненные задания, суммируются. Максимальное количество баллов 17.

Отметка 5 ставится за более 88% выполненной работы (15–17 баллов).

Отметка 4 ставится за более 70% выполненной работы (12–14 баллов).

Отметка 3 ставится за более 50% выполненной работы (9–11 баллов).

Постарайтесь выполнить как можно больше заданий и набрать как можно большее количество баллов.

Желаем успеха!

Ниже приведены справочные данные, которые могут понадобиться вам при выполнении работы.

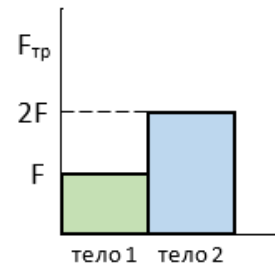
Десятичные приставки		
Наименование	Обозначение	Множитель
гига	Г	10^9
мега	М	10^6
кило	к	10^3
гекто	г	10^2
санти	с	10^{-2}
милли	м	10^{-3}
микро	мк	10^{-6}
нано	н	10^{-9}
Константы		
ускорение свободного падения на Земле	$g = 10 \text{ м/с}^2$	
гравитационная постоянная	$G = 6,7 \cdot 10^{-11} \text{ Н} \cdot \text{м}^2/\text{кг}^2$	

Часть 1

К каждому из заданий 1-5 даны 4 варианта ответа, из которых только 1 правильный. Номер этого ответа запишите в тетради.

1. Учащийся выполнял эксперимент по измерению силы трения, действующей на два тела, движущихся по горизонтальным поверхностям. Масса первого тела m_1 , масса второго тела $m_2 = 2m_1$. Он получил результаты, представленные на рисунке в виде диаграммы. Какой вывод можно сделать из анализа диаграммы?

- А) Коэффициент трения $\mu_2 = 2\mu_1$.
- Б) Сила нормального давления $N_1 = 2N_2$.
- В) Сила нормального давления $N_1 = N_2$.
- Г) Коэффициент трения $\mu_1 = \mu_2$.



2. *Снаряд, импульс которого p был направлен горизонтально, разорвался на два осколка. Импульс одного осколка p_1 в момент разрыва был направлен вертикально вниз (рис. 1). Какое направление имел импульс p_2 второго осколка (рис. 2)?*

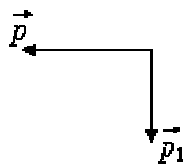


Рис. 1

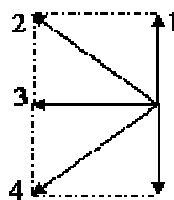
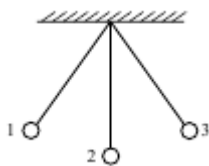


Рис. 2

- А) 1
- Б) 2
- В) 3
- Г) 4

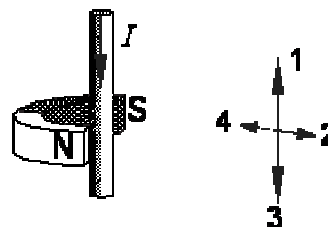
3. *Математический маятник колеблется между положениями 1 и 3 (см. рисунок). В положении 3:*



- А) кинетическая энергия маятника максимальна, потенциальная энергия минимальна
- Б) кинетическая и потенциальная энергия маятника максимальны
- В) кинетическая энергия маятника равна нулю, потенциальная энергия максимальна
- Г) кинетическая и потенциальная энергия маятника минимальны

4. *Между полюсами постоянного магнита помещен проводник с током, направление которого показано на рисунке. По какой из стрелок: 1, 2, 3 или 4 — направлена сила, действующая на проводник с током?*

- А) 1
- Б) 2
- В) 3
- Г) 4



5. *Используя фрагмент Периодической системы химических элементов, представленный на рисунке, определите, какое ядро образуется в результате β -распада ядра нептуния-240.*

Th 90 Торий 232,05	Pa 91 Протактиний [231]	U 92 Уран 238,07	Np 93 Нептуний [237]	Pu 94 Плутоний [242]	Am 95 Америций [243]	Cm 96 Кюрий [247]
--------------------------	-------------------------------	------------------------	----------------------------	----------------------------	----------------------------	-------------------------

- А) Ядро плутония-240.
- Б) Ядро плутония-239.
- В) Ядро урана-240.
- Г) Ядро урана-239.

Часть 2

При выполнении заданий с кратким ответом (задания 6-8) необходимо записать ответ в указанном в тексте задания месте.

Ответом к каждому из заданий 6-8 будет некоторая последовательность цифр. В тетради запишите номер вопроса и последовательность цифр – номера выбранных ответов. Каждую цифру пишите в отдельной клеточке. Цифры в ответах к заданиям 6-8 могут повторяться.

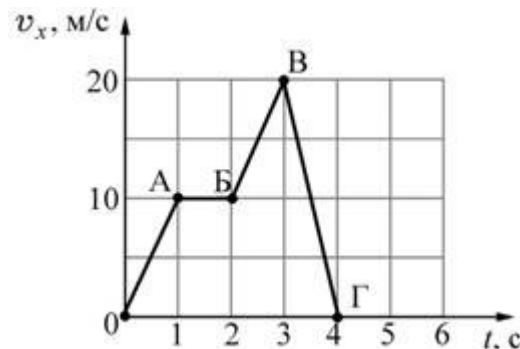
6. Расположите виды электромагнитных волн, излучаемых Солнцем, в порядке **возрастания** их частоты. Запишите в таблицу соответствующую последовательность цифр.

1. Инфракрасное излучение.
2. Гамма излучение.
3. Ультрафиолетовое излучение.
4. Видимое излучение.
5. Рентгеновское излучение.
6. Радиоволны.

Ответ:

--	--	--	--	--	--

7. Тело массой 2 кг движется вдоль оси ОХ. На рисунке представлен график зависимости проекции скорости v_x этого тела от времени t . Используя график, выберите из предложенного перечня **два** верных утверждения. Укажите их номера.



1. На участках ОА и АВ на тело действовала одинаковая по модулю и по направлению равнодействующая сила.
2. На участке АВ тело двигалось со скоростью, равной по модулю 1 м/с.
3. На участке ВГ ускорение тела равно по модулю 10 м/с^2 .
4. Модуль равнодействующей силы на участке ВГ равен 40 Н.
5. На участке АВ тело двигалось с ускорением, равным по модулю 2 м/с^2 .

Ответ:

--	--

8.

Установите соответствие (логическую пару). К каждой строке, отмеченной буквой, подберите формулу, обозначенную цифрой. Запишите в таблицу выбранные цифры под соответствующими буквами.

А. Закон всемирного тяготения

1. $\frac{2V_0}{g}$

Б. Закон Гука

2. $\frac{gt^2}{2}$

В. Сила Ампера

3. $G \frac{mM}{r^2}$

Г. Максимальная высота, на которую поднимается тело, брошенное вертикально вверх

4. $Bl\sin\alpha$

5. $k\Delta l$

Ответ:

А	Б	В	Г

Часть 3

Для ответа на задания части 3 (задания 9-10) используйте тетрадь для контрольных работ. Запишите сначала номер задания, а затем развернутый ответ на него.

Задание 9 представляет собой вопрос, на который необходимо дать письменный ответ. Полный ответ должен включать в себя не только ответ на вопрос, но и его развернутое логически связанное обоснование. При необходимости сделайте рисунок. Ответ записывайте четко и разборчиво.

9.

Можно ли, находясь в вагоне с зашторенными окнами при полной звукоизоляции, с помощью каких-либо экспериментов определить, движется ли поезд равномерно и прямолинейно или покоится? Ответ поясните.

10.

Санки съезжают с горы, высота которой равна 5 м, а угол наклона равен 30° , и движутся дальше по горизонтальному участку. Коэффициент трения на всем пути санок одинаков и равен 0,1. Какое расстояние пройдут санки по горизонтальному участку до полной остановки? Потерями энергии при переходе санок с наклонного участка на горизонтальный пренебречь.

Итоговая контрольная работа по физике за курс 9 класса

Вариант № 2

Инструкция по выполнению работы

На выполнение контрольной работы по физике отводится 45 минут. Работа состоит из 3-х частей и включает 10 заданий.

Часть 1 содержит 5 заданий (1–5). К каждому заданию приводится 4 варианта ответа, из которых только 1 верный. При выполнении задания части 1 в тетради для контрольных работ сделайте запись: «Часть 1», проставьте номера заданий по порядку и запишите номер выбранного ответа в контрольной работе. Если вы выбрали не тот номер, то зачеркните этот номер крестиком, а рядом поставьте номер правильного ответа.

Часть 2 включает 3 задания с кратким ответом (6–8). При выполнении заданий части 2 ответ записывается в тетради для контрольных работ. При этом делается запись: «Часть 2», проставляются номера заданий по порядку и записывается последовательность цифр ответа. В случае записи неверного ответа зачеркните его и запишите рядом новый.

Часть 3 содержит 2 задания (9–10), на которые следует дать развернутый ответ. Ответы на задания части 3 записываются в тетради для контрольных работ, после записи: «Часть 3». При выполнении заданий части 3 значение искомой величины следует записать в тех единицах, которые указаны в условии задания. Если такого указания нет, то значение величины следует записать в Международной системе единиц (СИ).

При вычислениях разрешается использовать непрограммируемый калькулятор.

При выполнении заданий можно пользоваться черновиком. Записи в черновике не учитываются при оценивании работы.

Советуем выполнять задания в том порядке, в котором они даны. С целью экономии времени пропускайте задание, которое не удаётся выполнить сразу, и переходите к следующему. Если после выполнения всей работы у вас останется время, то можно вернуться к пропущенным заданиям.

За каждый правильный ответ в «Части 1» дается 1 балл, в «Части 2» 1–2 балла, в «Части 3» – от 1 до 3 баллов. Баллы, полученные вами за все выполненные задания, суммируются. Максимальное количество баллов 17.

Отметка 5 ставится за более 88% выполненной работы (15–17 баллов).

Отметка 4 ставится за более 70% выполненной работы (12–14 баллов).

Отметка 3 ставится за более 50% выполненной работы (9–11 баллов).

Постарайтесь выполнить как можно больше заданий и набрать как можно большее количество баллов.

Желаем успеха!

Ниже приведены справочные данные, которые могут понадобиться вам при выполнении работы.

Десятичные приставки		
Наименование	Обозначение	Множитель
гига	Г	10^9
мега	М	10^6
кило	к	10^3
гекто	г	10^2
санти	с	10^{-2}
милли	м	10^{-3}
микро	мк	10^{-6}
нано	н	10^{-9}

Константы	
ускорение свободного падения на Земле	$g = 10 \text{ м/с}^2$
гравитационная постоянная	$G = 6,7 \cdot 10^{-11} \text{ Н} \cdot \text{м}^2/\text{кг}^2$

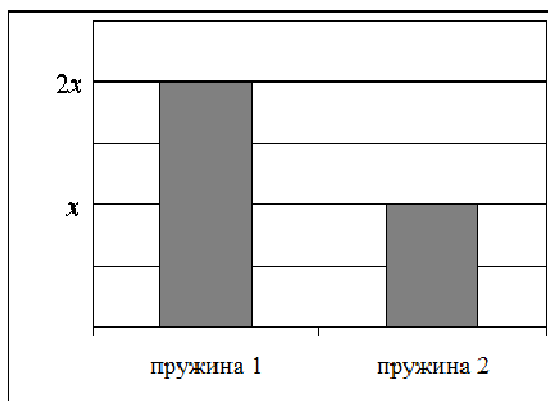
Часть 1

К каждому из заданий 1-5 даны 4 варианта ответа, из которых только 1 правильный. Номер этого ответа запишите в тетради.


1.

Учащийся выполнял эксперимент по измерению удлинения x двух пружин при подвешивании к ним грузов. Полученные учащимся результаты представлены на рисунке в виде диаграммы. Какой вывод о жёсткости пружин k_1 и k_2 можно сделать из анализа диаграммы, если масса груза m_1 , подвешенного к первой пружине, в 2 раза больше массы m_2 груза, подвешенного ко второй пружине ($m_1 = 2m_2$)?

- А) $k_1 = k_2$
- Б) $k_1 = 4k_2$
- В) $k_2 = 2k_1$
- Г) $k_2 = 4k_1$

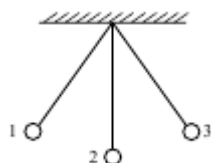


2. Два шара одинаковой массы m движутся навстречу друг другу со скоростями соответственно v_1 и v_2 по гладкому горизонтальному столу (см. рисунок). Полный импульс p системы шаров равен по модулю



- А) $p = mv_1 + mv_2$ и направлен направо \rightarrow
- Б) $p = mv_1 - mv_2$ и направлен направо \rightarrow
- В) $p = mv_2 - mv_1$ и направлен налево \leftarrow
- Г) $p = mv_1 + mv_2$ и направлен налево \leftarrow

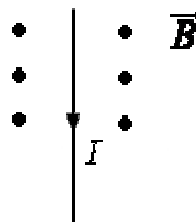
3. Математический маятник колеблется между положениями 1 и 3 (см. рисунок). В положении 2:



- А) кинетическая энергия маятника максимальна, потенциальная энергия минимальна
- Б) кинетическая энергия маятника равна нулю, потенциальная энергия максимальна
- В) кинетическая и потенциальная энергия маятника максимальны
- Г) кинетическая и потенциальная энергия маятника минимальны

4. На рисунке изображён проводник с током, помещённый в магнитное поле. Стрелка указывает направление тока в проводнике. Вектор магнитной индукции направлен перпендикулярно плоскости рисунка к нам. Как направлена сила, действующая на проводник с током?

- А) вверх \uparrow
- Б) вправо \rightarrow
- В) вниз \downarrow
- Г) влево \leftarrow



5. Используя фрагмент Периодической системы химических элементов, представленный на рисунке, определите, какое ядро образуется в результате α -распада ядра нептуния-237.

Th	90	Pa	91	U	92	Np	93	Pu	94	Am	95	Cm	96
Торий		Протактиний		Уран		Нептуний		Плутоний		Америций		Кюрий	

- А) Ядро америция-241.
- Б) Ядро протактиния-233.
- В) Ядро америция-243.
- Г) Ядро протактиния-231.

Часть 2

При выполнении заданий с кратким ответом (задания 6-8) необходимо записать ответ в указанном в тексте задания месте.

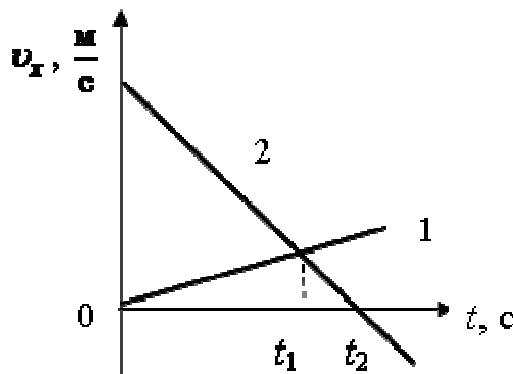
Ответом к каждому из заданий 6-8 будет некоторая последовательность цифр. В тетради запишите номер вопроса и последовательность цифр – номера выбранных ответов. Каждую цифру пишите в отдельной клеточке. Цифры в ответах к заданиям 6-8 могут повторяться.

6. Расположите виды электромагнитных волн, излучаемых Солнцем, в порядке **возрастания** их длины волны. Запишите в таблицу соответствующую последовательность цифр.
1. Инфракрасное излучение.
 2. Гамма излучение.
 3. Ультрафиолетовое излучение.
 4. Видимое излучение.
 5. Рентгеновское излучение.
 6. Радиоволны.

Ответ:

--	--	--	--	--	--

7. На рисунке приведены графики зависимости проекции скорости движения двух тел, движущихся вдоль оси Ox . Из приведённых ниже утверждений выберите **два** правильных и запишите их номера.



1. Тела всё время движутся навстречу друг другу.
2. В момент времени t_1 тела встретились.
3. В момент времени t_2 ускорение тела 2 равно нулю.
4. Модуль ускорения тела 1 меньше модуля ускорения тела 2.
5. Проекция ускорения a_x тела 1 положительная, а тела 2 отрицательная.

Ответ:

--	--

8.

Установите соответствие (логическую пару). К каждой строке, отмеченной буквой, подберите формулу, обозначенную цифрой. Запишите в таблицу выбранные цифры под соответствующими буквами.

А. Сила Ампера

1. $\frac{2V_0}{g}$

Б. Сила трения

2. $\frac{V_0^2 \sin^2 \alpha}{2g}$

В. Первая космическая скорость

3. $\sqrt{\frac{GM}{R+h}}$

Г. Максимальная высота подъема тела, брошенного под углом к горизонту

4. $BlI \sin \alpha$

5. μN

Ответ:

А	Б	В	Г

Часть 3

Для ответа на задания части 3 (задания 9-10) используйте тетрадь для контрольных работ. Запишите сначала номер задания, а затем развернутый ответ на него.

Задание 9 представляет собой вопрос, на который необходимо дать письменный ответ. Полный ответ должен включать в себя не только ответ на вопрос, но и его развернутое логически связанное обоснование. При необходимости сделайте рисунок. Ответ записывайте четко и разборчиво.

9.

По реке плывёт лодка с гребцом, а рядом с ней – плот. Одинаковое ли время потребуется гребцу для того, чтобы перегнать плот на 10 м, и для того, чтобы на столько же отстать от него? Ответ обоснуйте.

10.

Мальчик на коньках разгоняется до скорости 11 м/с и по склону поднимается на ледяную горку. До какой высоты он сможет подняться, если коэффициент трения равен 0,1, а угол наклона горки к горизонту равен 45° ?

